





Mathe Aufgaben vom 04.05.-08.05.2020

| Aufgaben zum Thema Länge |  |  |  | Erledigt am/Fragen | | | | | | | | | | |
|---|---|---|---|--------------------|---------|--|-----------|--|-------|--|--|--|--|--|
| <p>Miss mit einem Lineal, einem Zollstock oder einem Maßband 10 verschiedene Dinge aus und schreibe sie in eine Tabelle. Denke an die Einheit (Millimeter – mm, Zentimeter – cm, Meter - m). Lest dazu vorher die Übersicht Größen im Buch auf Seite 116.</p> <table border="1" data-bbox="165 609 746 846"> <thead> <tr> <th>Gegenstand</th> <th>Länge</th> </tr> </thead> <tbody> <tr> <td>Mathebuch</td> <td></td> </tr> <tr> <td>Sekundo</td> <td></td> </tr> <tr> <td>Matheheft</td> <td></td> </tr> <tr> <td>.....</td> <td></td> </tr> </tbody> </table> | Gegenstand | Länge | Mathebuch | | Sekundo | | Matheheft | | | | | | | |
| Gegenstand | Länge | | | | | | | | | | | | | |
| Mathebuch | | | | | | | | | | | | | | |
| Sekundo | | | | | | | | | | | | | | |
| Matheheft | | | | | | | | | | | | | | |
| | | | | | | | | | | | | | | |
| <p>Aufgaben im Sekundo: S. 51 S. 52 (Beispiel zur Aufgabe 3: 6 km=6000 m; 700 cm = 7 m) S. 53 S. 54 S. 60 Nr. 4 bis 7 S. 83 Nr. 21 und 22</p> | | | | | | | | | | | | | | |
| <p>Buch S. 115 – sieh dir die vier Bilder an und miss deinem Fuß, deine Handspanne deine Elle und deinen Schritt (Schrittweite). S. 115 Nr. 3 <i>Tipp:</i> ➤ Pro Tag ➤ Pro Woche ➤ Pro Jahr (Denke an die Ferien! ) S. 117 Nr. 1 leicht und schwer Nr. 3 leicht Nr. 4 leicht und schwer Nr. 5 leicht und schwer S. 118 Nr. 8</p> | | | | | | | | | | | | | | |
| <p>Für Profis im Buch: S.117 Nr. 6 leicht und schwer</p> | | | | | | | | | | | | | | |

Unterschrift der Eltern